

LBRIS

We know
books

Marilena Mirabela DOBRE

Nina ROTARU

Aurelia FIERĂSCU

MATEMATICĂ ȘI EXPLORAREA MEDIULUI

CLASA I



**Editura ALLEGRIA
2022**


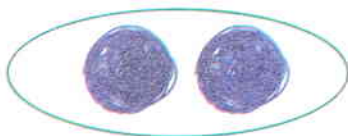
I.	Formarea mulțimilor	5
II.	Numerele naturale de la 0 la 10	9
	Compunerea și descompunerea numerelor naturale de la 0 la 10	11
III.	Adunarea și scăderea numerelor naturale de la 0 la 10	13
	Aflarea termenului necunoscut	15
IV.	Numerele naturale de la 0 la 31	17
	Recapitulare	21
	Evaluare	22
V.	Adunarea și scăderea numerelor naturale de la 0 la 31	
	fără trecere peste ordin	23
VI.	Adunarea și scăderea numerelor naturale de la 0 la 31	
	cu trecere peste ordin	26
	Recapitulare	30
	Evaluare	33
VII.	Probleme care se rezolvă printr-o singură operație	35
VIII.	Probleme care se rezolvă prin două operații	37
	Evaluare	39
IX.	Numere naturale de la 0 la 100	41
	Compararea numerelor de la 0 la 100	46
	Ordonarea numerelor de la 0 la 100	48
	Rotunjirea numerelor de la 0 la 100	50
	Recapitulare	51
	Evaluare	53
X.	Adunarea numerelor naturale de la 0 la 100	
	fără trecere peste ordin	55
XI.	Scăderea numerelor naturale de la 0 la 100	
	fără trecere peste ordin	58
XII.	Adunarea numerelor naturale de la 0 la 100	
	cu trecere peste ordin	61

XIII.	Scăderea numerelor naturale de la 0 la 100 cu trecere peste ordin	64
	Recapitulare	67
	Evaluare	69
XIV.	Orientare spațială și localizări în spațiu	71
XV.	Elemente intuitive de geometrie	73
	Figuri geometrice	73
	Corpuri geometrice	75
	Recapitulare	77
	Evaluare	79
XVI.	Unități de măsură	81
	Măsurarea lungimii	81
	Măsurarea capacității	84
	Monede și bancnote	86
	Măsurarea timpului	89
	Recapitulare	91
	Evaluare	93
	Explorarea mediului	95
I.	Corpul omenesc	95
II.	Plante și animale	100
III.	Elemente intuitive despre Pământ	106
IV.	Soarele – sursă de lumină și căldură	108
V.	Forme și transfer de energie	110
VI.	Unde și vibrații	112
VII.	Forțe și mișcare	113
	Recapitulare	114
	Evaluare	117


I. Formarea mulțimilor

1. Formează mulțimea obiectelor roșii.


exemplu:



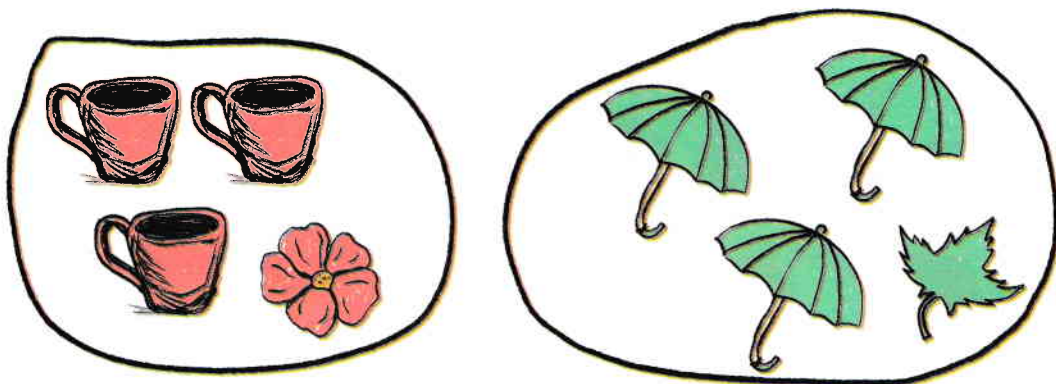
2. Formează mulțimea pătratelor mici.




3. Formează mulțimi de obiecte de același fel.



4. Taie cu o linie ce nu se potrivește în fiecare mulțime de elemente.



5. Încercuiește obiectul de pe masă.




6. Încercuiește și colorează vaza cea mai înaltă.



7. Colorează ciuperca cea mai mică.



8. Completează mulțimile pentru a avea tot atâtea elemente.

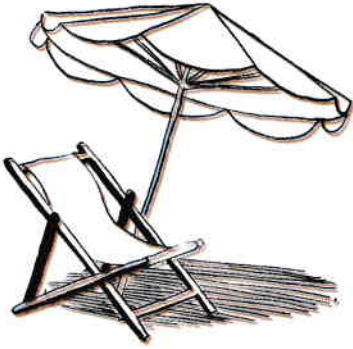


9. Încercuiește imaginea corespunzătoare anotimpului toamna.



10.


Colorează imaginea specifică anotimpului toamna.



11.

Lucru în perechi

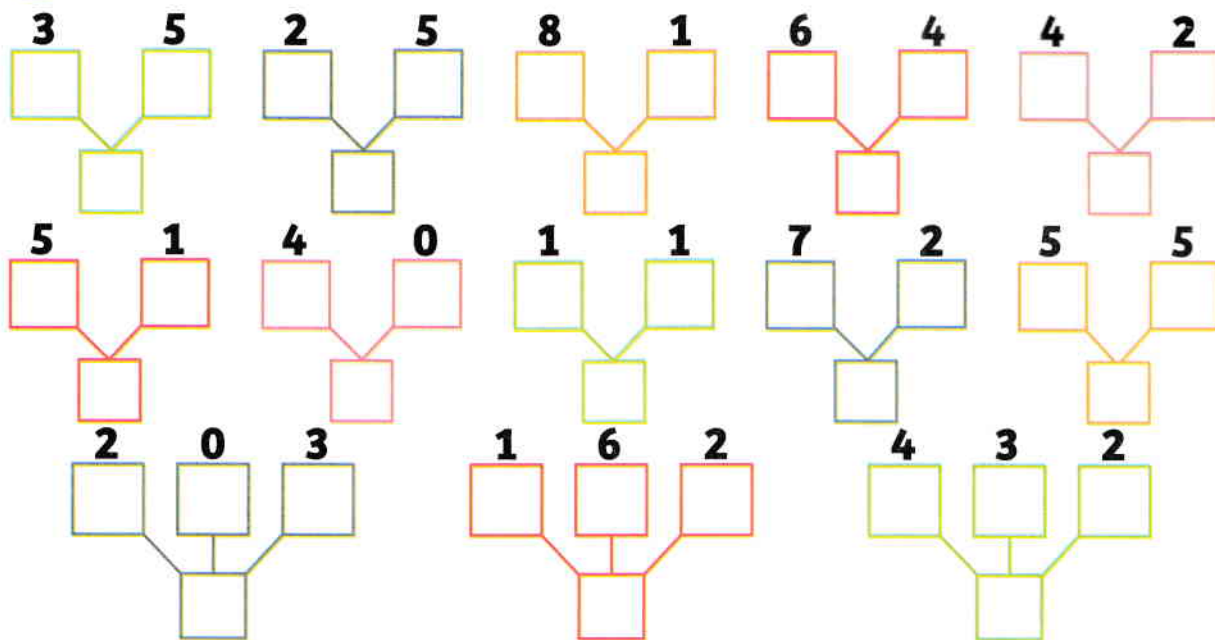
Realizează un desen în care să se regăsească elemente ale anotimpului toamna. Compară desenul tau cu cel al colegului, apoi completați propriul desen.

**Felicitări!**



Compunerea și descompunerea numerelor naturale de la 0 la 10

1. Compune numere, folosind numerele date.



2. Descompune următoarele numere:

